

# Matematika

## Trieda: 2.C

1. Pomôž dievčatku vyrátať príklady. Obrázky si vymaľuj



$$19 + 1 = \underline{\quad}$$

$$2 + 10 = \underline{\quad}$$

$$17 + 3 = \underline{\quad}$$

$$7 + 3 = \underline{\quad}$$

$$6 + 6 = \underline{\quad}$$

$$6 + 7 = \underline{\quad}$$

$$5 + 9 = \underline{\quad}$$

$$7 + 4 = \underline{\quad}$$

$$8 + 8 = \underline{\quad}$$

$$6 + 5 = \underline{\quad}$$



Danko písal v škole písomku. Zahraj sa na pani učiteľku a oprav príklady.

$$4 + 8 = 12$$

$$13 - 5 = 5$$

$$7 + 6 = 14$$

$$10 - 9 = 1$$

Počítaj zimnú reťazovku

$$9 + 5 + 6 = \underline{\quad\quad} \quad 5 + 6 + 8 = \underline{\quad\quad} \quad 0 + 5 + 7 + 6 = \underline{\quad\quad}$$

$$9 + 4 + 5 = \underline{\quad\quad} \quad 4 + 5 + 8 = \underline{\quad\quad} \quad 3 + 4 + 7 + 5 = \underline{\quad\quad}$$

$$9 + 3 + 4 = \underline{\quad\quad} \quad 3 + 4 + 8 = \underline{\quad\quad} \quad 2 + 3 + 7 + 4 = \underline{\quad\quad}$$



Snehuliak sa rád hrá. Zahraj sa s ním a vypočítaj príklady v tabuľke. Pozor na znamienko + a -

	4	2	5	3	
3 9	<input type="text"/>	<input type="text"/>	<input type="text"/>	<input type="text"/>	}
4 6	<input type="text"/>	<input type="text"/>	<input type="text"/>	<input type="text"/>	}
6 8	<input type="text"/>	<input type="text"/>	<input type="text"/>	<input type="text"/>	}
5 10	<input type="text"/>	<input type="text"/>	<input type="text"/>	<input type="text"/>	}

Pomôž snehuliakovi doplniť číselný rad

1			4					9	
	12				16		18		

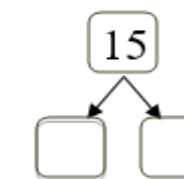
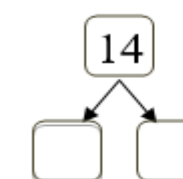
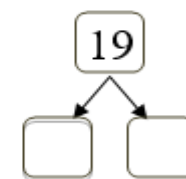
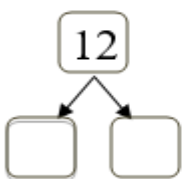
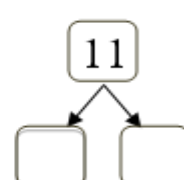
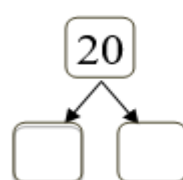
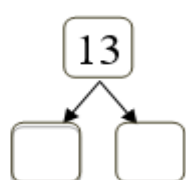
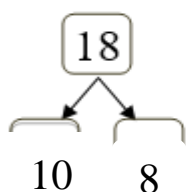
8 Usporiadaj čísla od najmenšieho po najväčšie


5, 10, 0, 19, 20, 8 \_\_\_\_\_

3, 11, 1, 5, 16, 18 \_\_\_\_\_

10, 5, 14, 1, 9, 10 \_\_\_\_\_

9 Rozdeľ čísla na celé desiatky a jednotky





Vypočítaj príklady a vyfarbi podľa výsledku. Čísla nájdeš pod obrázkom

2 – žltá

4- červená

6- hnedá

3- modrá ●

5- biela

7- oranžová ●