

## Počítame s mackom Brumkom do 20

$12+4=$

$15-5=$

$16+2=$

$14-2=$

$13+6=$

$16-3=$

$10+7=$

$19-4=$

$11+8=$

$13-1=$

$15+3=$

$18-6=$

$17+1=$

$12-0=$

$14+5=$

$20-10=$



- Pomôž čísla pohľadať, do číselného radu zapísať...

1		3			6				10		12			15			19	
	2			5			8			11		13				17		
			4			7							14		16			

- Macko Brumko počítal, ale predsa chyby mal. Príklady prepočítaj, ak chybu nájdeš oprav...

$13+7=17$

$12+4=16$

$15+3=11$

$11+8=19$

$16-3=11$

$17-2=15$

$19-6=13$

$14-4=9$

- Porovnaj čísla znakmi  $< = >$

$15$    $17$

$19$    $11$

$12$    $13$

$20$    $18$


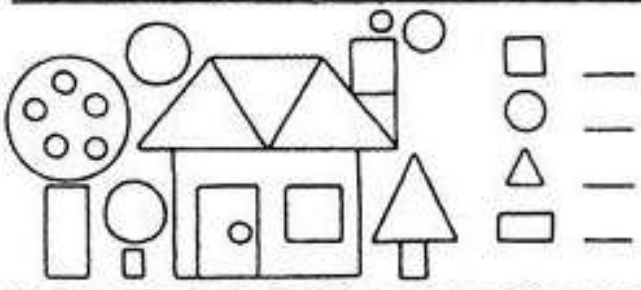
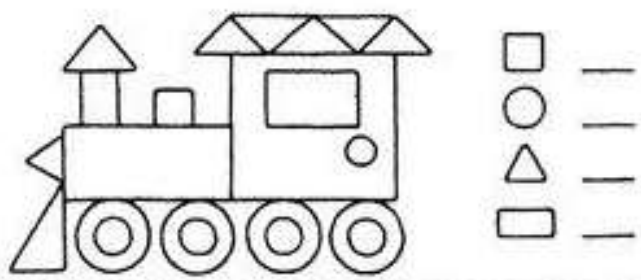
- Pomôž mackovi Brumkovi usporiadať čísla od najmenšieho po najväčšie...



9	1	6	3				
13	10	19	16				
12	11	17	20				
18	14	20	15				








Štvorček, trojuholník, kruh,  
obdĺžnik vy moji kamaráti, s Vami  
sa mi vždy chvíľa kráti...

- Spočítaj a zapíš počet  
geometrických tvarov  
k obrázkom









- Vyfarbi daný počet štvorčekov, koľko žabka ukazuje....

**Kva, kva, kva...**

 14		 17	
 15		 12	
 19		 16	
 11		 18	

- Koľko predmetov je na obrázku?

	
1 2 3 4 5 6 7 8 9 10 11 12 13 14 15 16 17 18 19 20	1 2 3 4 5 6 7 8 9 10 11 12 13 14 15 16 17 18 19 20
	
1 2 3 4 5 6 7 8 9 10 11 12 13 14 15 16 17 18 19 20	1 2 3 4 5 6 7 8 9 10 11 12 13 14 15 16 17 18 19 20
	
1 2 3 4 5 6 7 8 9 10 11 12 13 14 15 16 17 18 19 20	1 2 3 4 5 6 7 8 9 10 11 12 13 14 15 16 17 18 19 20

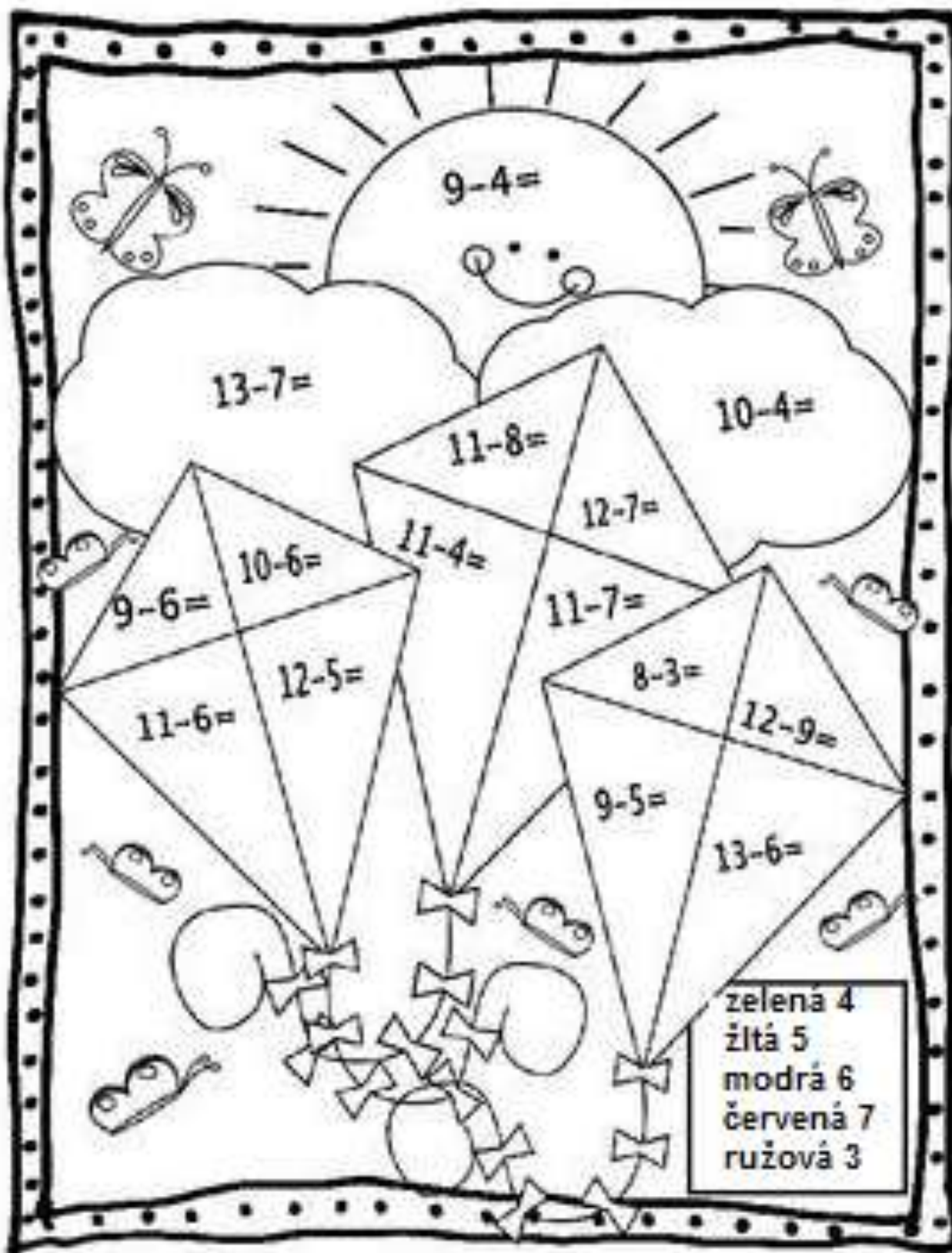
- Doplň číslo, ktoré chýba...

17		19	13		15
14		16	11		13
18		20	12		14
16		18	15		17
10		11	19		21

- Veselé počítanie s morskými zvieratkami...

 <b>6</b>	 <b>7</b>	 <b>8</b>	 <b>9</b>
2 + 3 =	3 + 4 =	4 + 4 =	2 + 6 =
3 + 3 =	5 + 3 =	6 + 2 =	4 + 5 =
4 + 2 =	6 + 1 =	4 + 3 =	1 + 7 =
4 + 3 =	4 + 4 =	5 + 4 =	8 + 2 =
5 + 1 =	2 + 5 =	6 + 3 =	3 + 6 =
3 + 2 =	1 + 5 =	3 + 5 =	1 + 8 =
1 + 3 =	4 + 3 =	2 + 6 =	6 + 1 =
2 + 4 =	6 + 2 =	7 + 2 =	7 + 2 =
3 + 4 =	4 + 2 =	3 + 6 =	4 + 4 =
1 + 5 =	1 + 6 =	1 + 7 =	6 + 3 =

- A na záver, oddychové počítanie so šarkanom...



Ako sa Ti darilo počítať s mackom Brumkom?

