

Matematika

5.roč.

1, Mám v peňaženke 30eur. Koľko budem mať, ak:

a, dostanem 25eur =

b, vrátim dlh 15eur =

c, požičiam si 10eur =

d, vrátim dlh 40eur =

2, Jano dlhuje Maťovi 55eur. Maťo mu 20eur z dlhu odpustil. Aký veľký dlh ostal Janovi?

3, Zuzka dlhuje Majke 50eur, Anka dlhuje Katke 30eur. O koľko eur budú mať viac alebo menej, keď si vyrovnajú svoje dlhy?

4, Rozdeľ:


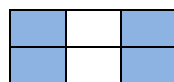
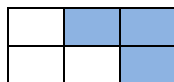

a, 2 eurá piatim deťom =

b, 4 eurá ôsmim deťom =

c, 1 euro dvom deťom =

d, 3 eurá štyrom deťom =

5, Vyfarbená časť na prvom obrázku je jeho tretina. Aké časti sú vyfarbené na ďalších obrázkoch?



6, Kráľ Jeremiáš sa celý svoj život riadil heslom „Rozdeľuj a panuj !“

a, 800 zlatých rozdelil na dve polovice. Koľko zlatých bolo v každej polovici?

b, 2400 strieborných rozdelil na tretiny. Koľko strieborných bolo v každej tretine?

c, 54 koní rozdelil do 6 stád. Koľko koní bolo v každom stáde?